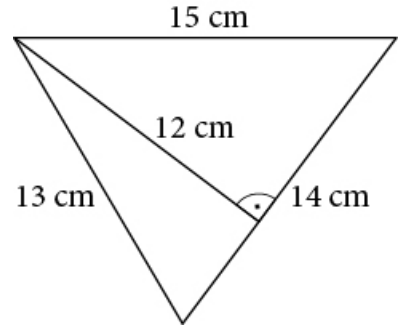
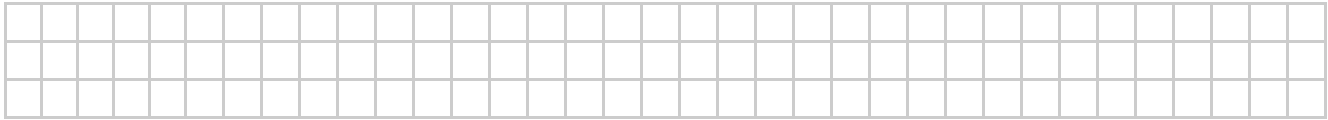


Kartkówka 5.V.3 (kopia)

1 Oblicz pole trójkąta.


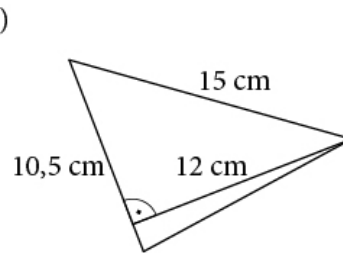
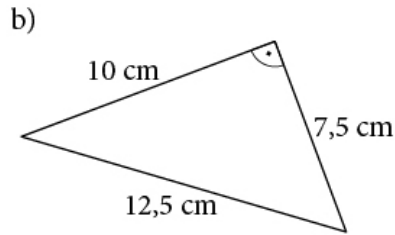
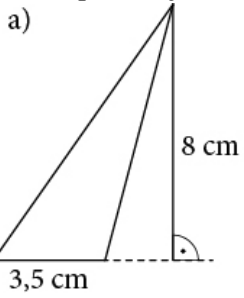


(... / 1 p.)



2 Oblicz pole trójkąta.

(... / 3 p.)



3 Oblicz pole i obwód trójkąta prostokątnego o bokach 13 cm, 12 cm i 5 cm.

(... / 2 p.)

$P =$ _____

Obw. = _____

4 Pole trójkąta wynosi 48 cm^2 . Jeden z boków tego trójkąta ma długość 8 cm. Oblicz wysokość opuszczoną na ten bok.

(... / 2 p.)

